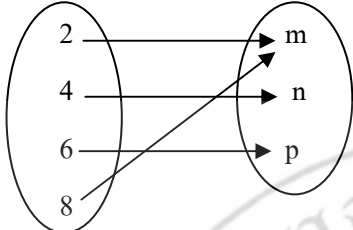


1. จากแผนภาพจงพิจารณาว่าคู่อันดับใด
ไม่เกิดจากแผนภาพที่กำหนดให้



- ก. (2,m)
- ข. (8,m)
- ค. (6,p)
- ง. (8,p)

2.

X	1	2	3	4	5	6	...
Y	1	3	5	7	9	11	...

จากตารางนำมาเขียนคู่อันดับ (x,21) ค่า x
ตรงกับข้อใด

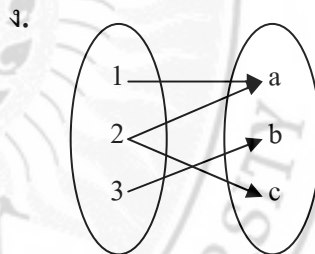
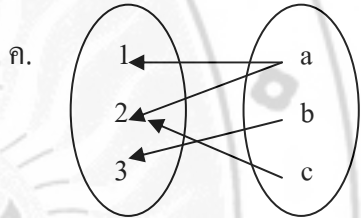
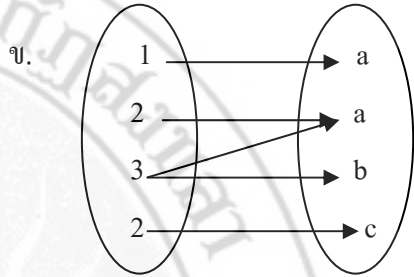
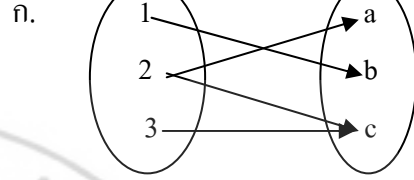
- ก. 10
- ข. 11
- ค. 12
- ง. 13

3. จากตารางที่กำหนดให้ ค่า $m+n$
ตรงกับข้อใด

x	0	1	2	3	4	m
y	0	3	6	n	12	15

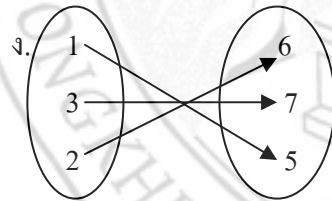
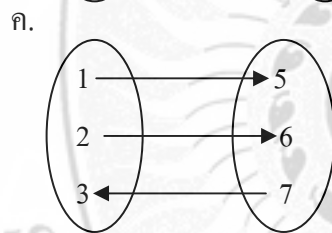
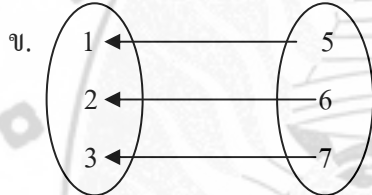
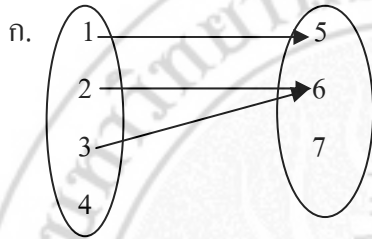
- ก. 14
- ข. 13
- ค. 12
- ง. 11

4. แผนภาพในข้อใดแสดงความสัมพันธ์ของ
(1,a),(2,a),(3,b),(2,c)



5. ความสัมพันธ์ระหว่าง x กับ y ในรูปของคู่อันดับ (x,y) ในตารางตรงกับข้อใด

X	1	2	3
y	5	6	7



6. ดินสอแท่งละ 2 บาท ข้อใดเป็นคู่อันดับแสดงความสัมพันธ์ระหว่างจำนวนดินสอกับราคาดินสอ

- ก. (1,2),(2,4),(6,3)
- ข. (2,4),(4,8),(1,2)
- ค. (2,1),(4,2),(6,3)
- ง. (1,2),(10,20),(2,1)

7. จาก(มะม่วง,เปรี้ยว),(มะปราง,หวาน),(ส้ม,เปรี้ยว),(ชมพู,หวาน) แสดงความสัมพันธ์ของสิ่งใด

- ก. ผลไม้ชนิดต่างๆ
- ข. ผลไม้รสต่างๆ
- ค. รสผลไม้กับผลไม้
- ง. ชนิดผลไม้กับรสของผลไม้

8. กำหนดคู่อันดับ(1,3),(0,0),(-1,-3) แล้วคู่อันดับในข้อใดที่มีความสัมพันธ์ระหว่างตัวแรกและตัวที่สองเช่นเดียวกับคู่อันดับในโจทย์

- ก. (5,7)
- ข. (3,5)
- ค. (2,6)
- ง. (1,4)

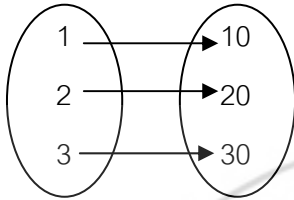
9. ความสัมพันธ์ของตัวเลข 2 กลุ่ม เป็นไปตามตารางต่อไปนี้

x	2	4	6	8
y	7	11	15	A

จงหาค่าของ A

- ก. 16
- ข. 17
- ค. 18
- ง. 19

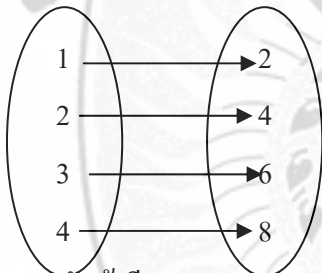
10. จากแผนภาพ ข้อใดอ่านถูกต้อง



จำนวนขยงลบ ราคาขยงลบ

- ก. (1,10) อ่านว่า คู่อันดับหนึ่ง สิบ
- ข. (2,10) อ่านว่า คู่อันดับสอง สิบ
- ค. (3,10) อ่านว่า คู่อันดับสาม สิบ
- ง. (3,20) อ่านว่า คู่อันดับสาม ยี่สิบ

11. จากแผนภาพ ข้อใดบอกความหมาย ถูกต้อง



จำนวนฝักบั้งจิ้น ราคาขาย(บาท)

- ก. ฝักบั้งจิ้น 1 กำขายในราคา 2 บาท
- ข. ฝักบั้งจิ้น 4 กำขายในราคา 6 บาท
- ค. ฝักบั้งจิ้น 6 กำ ขายในราคา 3บาท
- ง. ฝักบั้งจิ้น 2 กำขายในราคา 1 บาท

12. จุด (5,3) อยู่ในจตุภาคใด

- ก. 1
- ข. 2
- ค. 3
- ง. 4

13. แกน x และแกน y ตัดกันที่จุดพิกัดใด

- ก. (0,0)
- ข. (1,0)
- ค. (0,1)
- ง. (-1,0)

14. เมื่อนำคู่อันดับ(1,1),(2,2),(3,3) ไปเขียน

กราฟ จะได้กราฟมีลักษณะอย่างไร

- ก. เป็นจุดเรียงกันเป็นสามเหลี่ยม
- ข. เป็นจุดเรียงกันเป็นแนวโค้ง
- ค. เป็นจุดเรียงกันเป็นแนวตรง
- ง. เป็นเส้นตรง

15. จุดที่กำหนดไว้ในข้อใด เมื่อนำไปเขียน

กราฟโดยใช้มาตราส่วนบนแกน x และ

แกน y เท่ากันแล้ว ลากเส้นตรงต่อระหว่าง

จุดเหล่านั้นตามลำดับ จะได้รูปสี่เหลี่ยมจัตุรัส

- ก. (0,0),(0,6),(6,5),(5,0)
- ข. (1,2),(2,1),(1,3),(3,2)
- ค. (3,2),(8,2),(8,7),(3,7)
- ง. (3,3),(6,3),(6,5),(3,5)

16. จุดที่เส้นจำนวนทั้งสองตัดกัน ตรงกับ

คำว่าอะไร

- ก. Origin
- ข. X-Axis
- ค. Y-Axis
- ง. Ordered Pair

17. เส้นจำนวนในแนวนอน ใน
ภาษาอังกฤษตรงกับคำว่าอะไร

- ก. Quadrant
- ข. Ordered pair
- ค. Vertical axis
- ง. Horizontal axis

18. เส้นจำนวนในแนวตั้ง ใน
ภาษาอังกฤษตรงกับคำว่าอะไร

- ก. Quadrant
- ข. Ordered pair
- ค. Vertical axis
- ง. Horizontal axis

ข. Gaps

ค. Graf

ง. Graph

20. คำว่า “จุดภาค” ในภาษาอังกฤษ
ตรงกับ

คำว่าอะไร

ก. Quadrant

ข. Ordered pair

ค. Vertical axis

ง. Horizontal axis

19. คำว่า “กราฟ” ในภาษาอังกฤษตรง
กับ

คำว่าอะไร

- ก. Krap

